
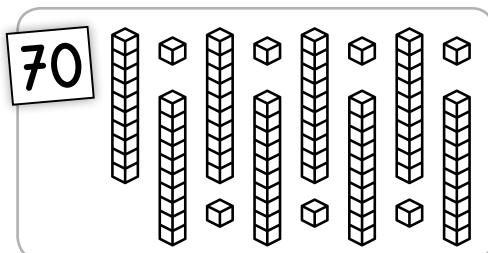





Barre les cubes en trop



Entoure tout ce qui fait 70.


70
30+30
60+10
7d 6u

20+20+20
60-10
40+10+20





10+60
50+20
7d

30+20+10
20+20+20+10
40+30


20+20+10
10+10+10+10+10+10+10+7

6d 7u
30+20+20

Barre les cubes en trop



Entoure tout ce qui fait 70.


70
30+30
60+10
7d 6u

20+20+20
60-10
40+10+20

10+60
50+20
7d

30+20+10
20+20+20+10
40+30

20+20+10
10+10+10+10+10+10+10+7

6d 7u
30+20+20

Écris le numéro sur chaque maillot.



soixante-deux



soixante-dix-neuf



soixante-dix



soixante-douze



soixante-quinze



soixante-huit

Écris le plus grand nombre que tu peux obtenir avec les étiquettes.

soixante

quatorze

dix

cinquante

.....

seize

et

douze

soixante

onze

.....

huit

zéro

soixante

neuf

dix

.....

sept

deux

six

cinq

soixante

.....

Écris le numéro sur chaque maillot.



soixante-deux



soixante-dix-neuf



soixante-dix



soixante-douze



soixante-quinze



soixante-huit

Écris le plus grand nombre que tu peux obtenir avec les étiquettes.

soixante

quatorze

dix

cinquante

.....

seize

et

douze

soixante

onze

.....

huit

zéro

soixante

neuf

dix

.....

sept

deux

six

cinq

soixante

.....

